

**Итоговая контрольная работа по ОДНКНР за 5 класс**

МБОУ ШР «СОШ № 2» г. Шелехов

Учитель: Брагина М.А.

**ДЕМО версия**

**Инструкция для учащихся**

На выполнение итоговой контрольной работы даётся 40 минут. Ответы занесите в соответствующие таблицы и поля для ответов после заданий.

Работа состоит из 5 заданий:

Задание № 1 с выбором ответа «Основные термины и понятия курса ОДНКНР». Тест из 10 вопросов, только один верный ответ из предложенных, оценивается по 1 баллу за каждый верный ответ. Максимально 10 баллов.

Задание № 2 установить соответствие «Символы религий», оценивается по 1 баллу за каждый верный ответ. Максимально 4 балла.

Задание № 3 работа с иллюстрациями «Священные сооружения», необходимо назвать сооружение и к какой относится религии – 1 балл по за каждое верное указание. Максимально за задание 8 баллов.

Задания № 4 с развернутым ответом «История России», требующее указания 3 исторических фактов. 2 балла за каждый, верно, указанный факт. Максимально 6 баллов за задание.

Задание № 5 творческое «Моя Россия». Расшифровать по буквам фамилии защитников Отечества. По 1 баллу за фамилию. Максимально 2 балла.

В целях экономии времени пропускайте задание, которое не удаётся выполнить сразу, и переходите к следующему. По окончании работы, если позволяет время, вы можете проверить работу или выполнить нерешенные задания. Если вы ошиблись и хотите исправить свой ответ, то зачеркните неверный ответ и укажите рядом верный.

Желаем Удачи!

---

Таблица для внесения баллов обучающегося (заполняется экспертом)

Номер задания	1	2	3	4	5	Сумма баллов	Отметка за работу
баллы							







**Задание 2. Установите соответствие между религиями и их главными символами:**

- |                 |  |
|-----------------|--|
| 1. Христианство | А. Полумесяц                               |
| 2. Ислам        | Б. Шестиконечная звезда<br>(Звезда Давида) |
| 3. Буддизм      | В. Крест                                   |
| 4. Иудаизм      | Г. Колесо закона (колесо сансары)          |

	<b>1</b>	<b>2</b>	<b>3</b>	<b>4</b>
ответ				

**Задание 3. Под иллюстрацией подпишите название сооружения и какой религии оно соответствует**

				
название				
религия				

**Задание 4. Укажите 3 исторических факта о принятии Христианства на Руси**

---



---



---



---



---



---



---



---



---



---

**Задание 5. Творческое задание «Моя Россия».** На Красной площади в Москве находится памятник двум защитникам Отечества. Кто они? Их имена вы узнаете, если выполните задание. В данных словах замените заглавные английские буквы на пропущенные русские и расшифруйте фамилии героев

